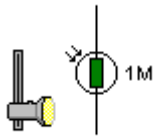




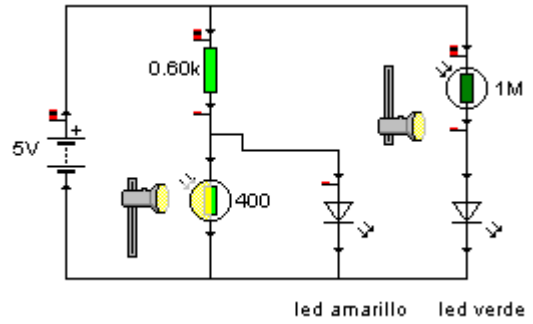
3. LDR (resistencia dependiente de la luz.)



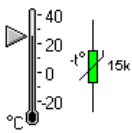
En el circuito de la figura responde:

¿Qué ocurre con los diodos cuando las LDR reciben luz o no reciben?

Explica porqué ocurre esto.

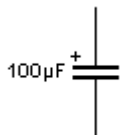


4. TERMISTOR (resistencia dependiente de la temperatura)



Realiza un esquema que demuestre el funcionamiento del termistor. Primero inténtalo en el Crocodile y luego dibújalo.

5. CONDENSADOR



En el circuito de la figura qué ocurre al pulsar S1 y al pulsar S2. Explícalo

